

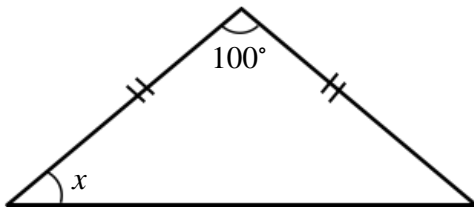
【中2 数学】 5章 三角形と四角形 二等辺三角形の性質 【演習①】

日付

氏名 (_____)

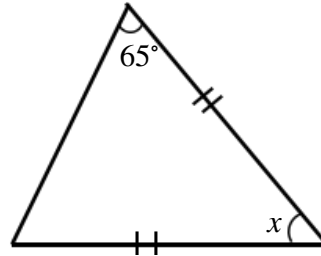
問1. 下の図で、同じ印をつけた辺が等しいとき、 $\angle x$ の大きさを求めなさい。

(1)



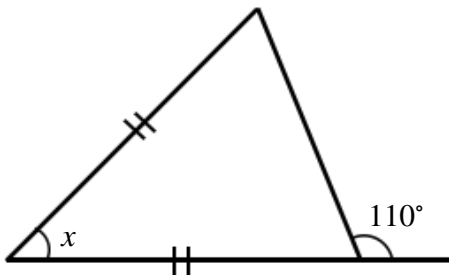
$\angle x = 40^\circ$

(2)



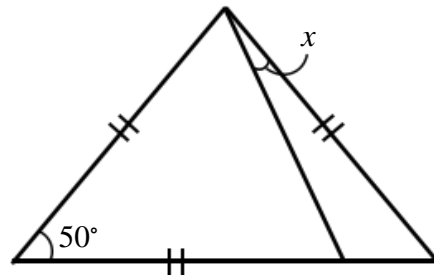
$\angle x = 50^\circ$

(3)



$\angle x = 40^\circ$

(4)



$\angle x = 15^\circ$

準備中

解説動画



授業動画



トップページ