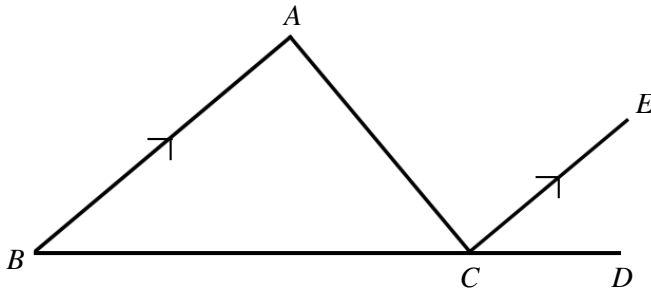


【中2 数学】 4章 平行と合同
三角形の内角と外角

日付

氏名 (_____)

下の図の $\triangle ABC$ の内角の和が 180° であることを証明しなさい。

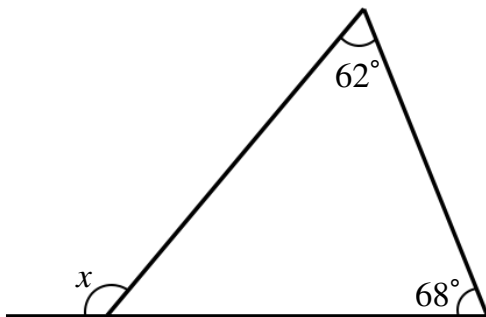


(証明)

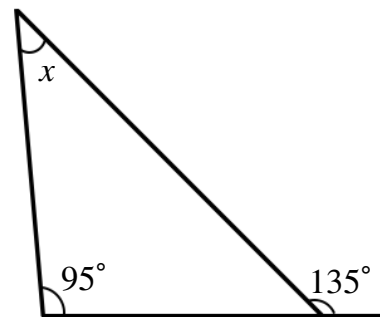
例

下の図で、 $\angle x$ の値を求めなさい。

(1)



(2)



授業動画



トップページ