

【中2 数学】 4章 平行と合同

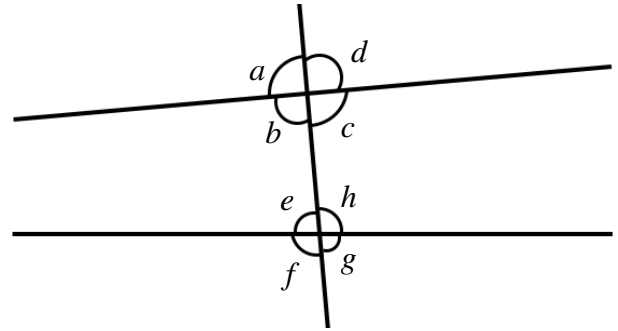
同位角と錯角

日付

氏名 (_____)

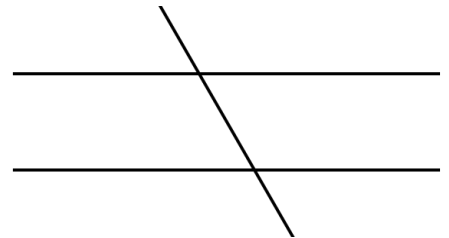
同位角

錯角



平行線と角

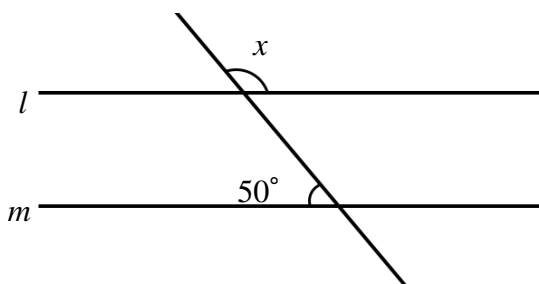
- ① 2直線が平行 ならば 同位角、錯角は等しい。
- ② 同位角または錯角が等しければ 2直線は平行



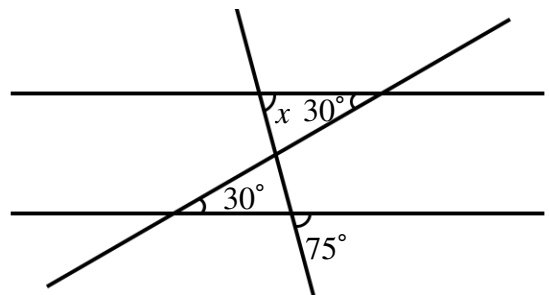
例

下の図で $\angle x$ の大きさを求めなさい。

(1) $l \parallel m$



(2)



授業動画



トップページ