


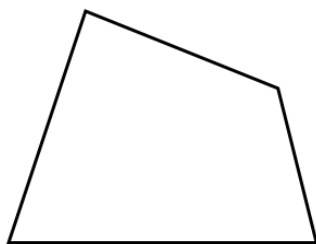
【中2 数学】 4章 平行と合同
内角と外角

日付

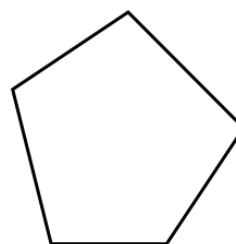
氏名 (_____)



三角形



四角形



五角形

	三角形	四角形	五角形	...
内角の和	180°			

n 角形の内角の和は

n 角形の外角の和を求めよう

どの頂点でも内角と外角の和は _____ °

n 個の頂点の内角と外角をすべて加えると _____

これから内角の和を引くと



授業動画



トップページ